

Карточки по математике для 1 класса на тему: "Сложение чисел от 0 до 10"

Карточка 1

Реши примеры:

$5 + 1 =$

$4 + 3 =$

$3 + 6 =$

$1 + 7 =$

Карточка 2

Реши примеры:

$4 + 2 =$

$2 + 2 =$

$3 + 5 =$

$2 + 7 =$

Карточка 3

Реши примеры:

$3 + 2 =$

$5 + 1 =$

$3 + 3 =$

$2 + 5 =$

Карточка 4

Реши примеры:

$5 + 3 =$

$6 + 1 =$

$3 + 7 =$

$4 + 3 =$

Карточка 5

Реши примеры:

$3 + 6 =$

$2 + 4 =$

Карточки по математике для 1 класса на тему: "Вычитание чисел от 0 до 10"

Карточка 1

Реши примеры:

$7 - 1 =$

$7 - 2 =$

$8 - 2 =$

$8 - 3 =$

Карточка 2

Реши примеры:

$6 - 1 =$

$6 - 2 =$

$5 - 2 =$

$5 - 3 =$

Карточка 3

Реши примеры:

$4 - 1 =$

$4 - 2 =$

$3 - 2 =$

$4 - 3 =$

Карточка 4

Реши примеры:

$9 - 3 =$

$6 - 3 =$

$5 - 2 =$

$5 - 1 =$

Карточка 5

Реши примеры:

$3 - 3 =$

$7 - 3 =$

$5 - 2 =$

$6 - 3 =$

Карточки по математике для 1 класса на тему: "Решение текстовых задач с числами от 1 до 10"

Карточка 1

Реши задачи:

1. В команде играют 5 мальчиков и несколько девочек. Девочек на 4 человека больше, чем мальчиков. Сколько девочек играет в команде?
2. В посёлке построили 8 кирпичных домов и несколько деревянных домов, которых на 3 дома меньше, чем кирпичных. Сколько деревянных домов построили в посёлке?

Карточка 2

Реши задачи:

1. В магазин привезли 6 ящиков с помидорами и несколько ящиков с огурцами. Ящиков с огурцами привезли на 3 штуки больше, чем ящиков с помидорами. Сколько ящиков с огурцами привезли в магазин?
2. У Саши в альбоме лежит 8 открыток, а у Коли в альбоме лежит на 5 открыток меньше. Сколько открыток лежит у Коли в альбоме?

Карточка 3

Реши задачи:

1. Хоккейный матч закончился со счетом 5:4. Сколько всего шайб было заброшено в матче?
2. На полке лежало 10 журналов. Миша взял почитать 3 журнала. Сколько журналов осталось лежать на полке?

Карточка 4

Реши задачи:

1. Мама купила в магазине 6 пирожков. Папа тоже купил пирожки, но он купил на 3 штуки больше, чем мама. Сколько пирожков купил папа?
2. Во дворе стояло 9 машин. Утром 5 машин уехали. Сколько машин осталось стоять во дворе?

Карточка 5

Реши задачи:

1. В кружке занимаются 8 мальчиков и несколько девочек, которых на 2 человека больше, чем мальчиков. Сколько всего детей занимается в кружке?
2. В кафе привезли 9 тортов, в первый день продали 6 тортов. Сколько тортов осталось в кафе для

Карточки по математике для 1 класса на тему: "Решение примеров на сложение и вычитание с числами от 0 до 10"

Карточка 1

Реши примеры:

$8 - 1 + 2 =$

$7 - 3 + 3 =$

$6 - 2 + 3 =$

$6 - 2 + 1 =$

Карточка 2

Реши примеры:

$7 - 3 + 2 =$

$6 - 3 + 1 =$

$5 - 3 + 1 =$

$4 - 2 + 1 =$

Карточка 3

Реши примеры:

$10 - 3 + 2 =$

$8 - 3 + 1 =$

$6 - 3 + 1 =$

$2 - 2 + 1 =$

Карточка 4

Реши примеры:

$10 - 3 + 2 =$

$9 - 3 + 1 =$

$5 - 3 + 1 =$

$6 - 2 + 1 =$

Карточка 5

Реши примеры:

$8 - 3 + 2 =$

$7 - 2 + 1 =$

$5 - 3 + 2 =$

$6 - 2 + 3 =$

Карточки по математике для 1 класса на тему: "Решение текстовых задач с числами от 0 до 10" (дополнительно)

Карточка 1

Реши задачи:

1. Маша нашла в лесу 4 гриба, а мама нашла на 2 гриба больше, чем Маша. Сколько грибов нашла мама?
2. За обедом папа съел 9 пирожков, а Оля съела на 5 пирожков меньше, чем папа. Сколько пирожков съела Оля?

Карточка 2

Реши задачи:

1. В саду Миша собрал 3 кг яблок, а бабушка собрала на 3 кг больше. Сколько кг яблок собрала бабушка?
2. На кухне стояли 9 стульев. 2 стула унесли в чулан. Сколько стульев осталось на кухне?

Карточка 3

Реши задачи:

1. Кошка весит 4 кг, а собака весит на 3 кг больше. Каков вес собаки?
2. Мише 9 лет, брат моложе Миши на 2 года? Сколько лет младшему брату?

Карточка 4

Реши задачи:

1. На уроке Коля написал 9 слов, а Петя написал на 2 слова меньше, чем Коля. Сколько слов написал Петя?
2. На столе лежало 3 книги. Маша положила на стол ещё 5 книг. Сколько книг лежит на столе?

Карточка 5

Реши задачи:

1. У Саши есть 7 рублей, а у Полины в кошельке лежит на 3 рубля больше, чем у Саши. Сколько рублей лежит в кошельке Полины?
2. Вася может отжаться 9 раз, а Коля может отжаться на 3 раза меньше, чем Вася. Сколько раз может отжаться Коля?

Карточки по математике для 1 класса на тему: "Сложение и вычитание чисел от 0 до 10"

Карточка 1

Вставь вместо пропуска ... число, чтобы равенство стало верным:

$3 - 2 + \dots = 4$

$6 - \dots + 3 = 3$

$6 - \dots + 1 = 7$

$\dots - 1 + 1 = 5$

Карточка 2

Вставь вместо пропуска ... число, чтобы равенство стало верным:

$8 - 2 + \dots = 9$

$1 - \dots + 3 = 4$

$6 - \dots + 2 = 7$

$\dots - 3 + 1 = 6$

Карточка 3

Вставь вместо пропуска ... число, чтобы равенство стало верным:

$8 - 3 + \dots = 7$

$1 - \dots + 3 = 4$

$6 - \dots + 2 = 2$

$\dots - 2 + 1 = 8$

Карточка 4

Вставь вместо пропуска ... число, чтобы равенство стало верным:

$6 - 2 + \dots = 4$

$1 - \dots + 3 = 4$

$6 - \dots + 1 = 5$

$\dots - 3 + 1 = 4$

Карточка 5

Вставь вместо пропуска ... число, чтобы равенство стало верным:

$3 - 2 + \dots = 6$

$1 - \dots + 2 = 7$

$6 - \dots + 3 = 7$

$\dots - 2 + 1 = 8$

Карточки по математике для 1 класса на тему: "Отрезок и многоугольники"

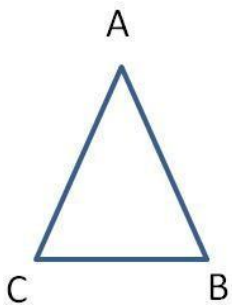
Карточка 1

Реши геометрические задачи:

1. Измерь длину отрезка и запиши результат. Начерти ещё один отрезок, который короче первого на 2 см.



2. Измерь длину каждой стороны треугольника и запиши результаты.



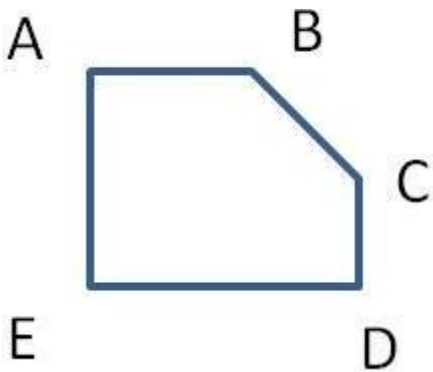
Карточка 2

Реши геометрические задачи:

1. Измерь длину отрезка и запиши результат. Начерти ещё один отрезок, который короче первого на 4 см.



2. Измерь длину каждой стороны многоугольника и запиши результаты.



Карточки по математике для 1 класса на тему: "Отрезок и многоугольники"

Карточка 3

Реши геометрические задачи:

1. Измерь длину отрезка и запиши результат. Начерти ещё один отрезок, который длиннее первого на 2 см.



2. Измерь длину каждой стороны прямоугольника и запиши результаты.



Карточка 4

Реши геометрические задачи:

1. Измерь длину отрезка и запиши результат. Начерти ещё один отрезок, который длиннее первого на 3 см.



2. Измерь длину каждой стороны квадрата и запиши результаты.

Карточки по математике для 1 класса на тему: "Отрезок и многоугольники"

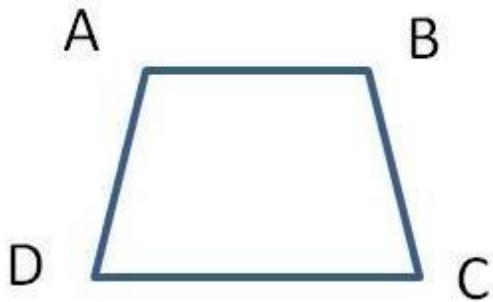
Карточка 5

Реши геометрические задачи:

1. Измерь длину отрезка и запиши результат. Начерти ещё один отрезок, который короче первого на 3 см.



2. Измерь длину каждой стороны многоугольника и запиши результаты.



Карточки по математике для 1 класса на тему: "Сложение и вычитание чисел от 0 до 10"

Карточка 1

Реши примеры:

$8 - 3 + 4 =$

$7 - 4 + 3 =$

$6 - 4 + 3 =$

$6 - 2 + 4 =$

Карточка 2

Реши примеры:

$7 - 4 + 3 =$

$6 - 3 + 4 =$

$5 - 4 + 2 =$

$4 - 2 + 4 =$

Карточка 3

Реши примеры:

$10 - 3 + 2 =$

$8 - 4 + 1 =$

$6 - 4 + 3 =$

$2 - 2 + 4 =$

Карточка 4

Реши примеры:

$10 - 3 + 3 =$

$9 - 3 + 4 =$

$5 - 3 + 1 =$

$6 - 2 + 3 =$

Карточка 5

Реши примеры:

$8 - 3 + 4 =$

$7 - 4 + 1 =$

Карточки по математике для 1 класса на тему: "Сложение и вычитание чисел от 0 до 10"

Карточка 1

Реши примеры:

$8 - 8 =$

$10 - 2 =$

$7 - 5 =$

$3 + 7 =$

$1 + 8 =$

$1 + 3 =$

Карточка 2

Реши примеры:

$7 - 4 =$

$10 - 8 =$

$7 - 7 =$

$3 + 0 =$

$1 + 9 =$

$4 + 5 =$

Карточка 3

Реши примеры:

$9 - 4 =$

$10 - 7 =$

$7 - 3 =$

$3 + 3 =$

$3 + 6 =$

$4 + 5 =$

Карточка 3

Реши примеры:

$9 - 5 =$

$8 - 7 =$

$9 - 8 =$

$3 + 6 =$

$3 + 2 =$

$4 + 0 =$

Карточка 4

Реши примеры:

$9 - 3 =$

$7 - 2 =$

$7 - 1 =$

$3 + 5 =$

$3 + 6 =$

$4 + 2 =$

Карточка 5

Реши примеры:

$3 - 3 =$

$8 - 2 =$

$10 - 1 =$

Карточки по математике для 1 класса на тему: "Сложение и вычитание чисел от 0 до 20"

Карточка 1

Реши примеры:

$13 - 2 + 6 =$

$19 - 15 - 2 =$

$10 - 9 + 15 =$

$14 - 12 + 5 =$

Карточка 2

Реши примеры:

$17 - 12 + 4 =$

$19 - 5 - 2 =$

$12 + 3 - 9 =$

$14 + 2 - 5 =$

Карточка 3

Реши примеры:

$10 - 7 + 4 =$

$9 - 5 + 12 =$

$12 + 6 - 9 =$

$10 + 8 - 5 =$

Карточка 4

Реши примеры:

$17 - 10 + 6 =$

$11 + 4 - 2 =$

$12 + 5 - 9 =$

$14 + 6 - 5 =$

Карточка 5

Реши примеры:

$4 - 2 + 14 =$

$12 - 5 - 2 =$

Карточки по математике для 1 класса на тему: "Текстовые задачи на сложение и вычитание чисел от 0 до 20"

Карточка 1

1. В ведре лежало 19 яблок. Из 12 яблок сварили компот. Сколько яблок осталось лежать в ведре?
2. У Коли есть 12 марок. У Миши есть 8 марок. Сколько всего марок у Коли и у Миши?
3. Маше 17 лет, а Галя на 2 года младше Маши. Сколько лет Гале?
4. В правом кармане Миши лежит 12 копеек, а в его левом кармане лежит на 3 копейки больше. Сколько денег в левом кармане у Миши? Сколько денег в обоих карманах?
5. Володя собрал 17 ягод. 12 ягод он съел. Сколько ягод осталось у Володи?
6. Вася собрал в лесу 14 грибов, потом он нашёл и срезал ещё 4 гриба, 1 плохой гриб он выбросил. Сколько грибов осталось у Васи?
7. На столе лежат 16 съедобных грибов и 2 ядовитых гриба. На сколько ядовитых грибов меньше, чем съедобных грибов?

Карточка 2

1. У Андрея в кошельке лежало 18 рублей. Он нашёл 1 рубль и положил его в кошелёк. Сколько всего денег в кошельке Андрея?
2. На ветке сидело 10 белок. 6 белок прыгнули на другую ветку. Сколько белок осталось сидеть на первой ветке?
3. В команде играет 19 девочек и мальчики, которых на 3 человека меньше, чем девочек. Сколько мальчиков играет в команде?
4. На столе лежат 17 яблок и груши, которых на 2 штуки больше. Сколько груш лежит на столе?
5. Максим получил 14 оценок за месяц. Среди них хороших оценок - 11. Сколько плохих оценок получил Максим?
6. Олег получил на уроке физкультуре 2 четверки, на уроке литературы он получил ещё 3 четвёрки, а на уроке рисовании - 2 четверки. Сколько всего четвёрок получил Олег?
7. У Любаши есть 15 марок, у Нины есть 4 марки. На сколько марок больше у Любаши, чем у Нины?

Карточка 3

1. В коробке лежало 19 леденцов. Миша съел 3 конфеты. Сколько леденцов осталось лежать в коробке?
2. На столе лежат 14 груши и 6 яблок. Сколько всего фруктов лежит на столе?
3. У Тимура есть 13 тетрадей, а у Марины есть на 3 тетради больше. Сколько тетрадей у Марины?
4. Мы взяли 10 газет и несколько журналов, причём журналов на 1 штуку больше, чем газет. Сколько журналов мы взяли?
5. В вазе стоит 19 цветов. Из них 3 ромашки, а остальные цветы - это гвоздики. Сколько гвоздик стоит в вазе?
6. В вазе стояло 12 цветов, Маша поставила в вазу ещё 5 цветов, а 3 цветка вынула. Сколько цветов осталось в вазе?
7. В кувшине стоят 15 ромашек и всего 2 гвоздики. На сколько ромашек в кувшине больше, чем гвоздик?

Карточки по математике для 1 класса на тему: "Текстовые задачи на сложение и вычитание чисел от 0 до 20"

Карточка 4

1. В пруду плавало 19 утят. 4 утёнка вылезли на берег. Сколько утят осталось плавать в пруду?
2. У Маши есть 17 рублей, у Вовы есть 2 рубля. Сколько всего денег у ребят?
3. У Николая в коробке лежит 16 конфет, а у Бориса в коробке лежит на 2 конфеты меньше, чем у Николая. Сколько конфет лежит в коробке у Бориса?
4. В пакете лежит 14 груш, а в корзине лежит на 3 груши больше. Сколько груш лежит в корзине?
5. Во дворе живёт 15 щенков. Из них 1 щенок рыжий, а остальные - серые. Сколько серых щенков живёт во дворе?
6. На выставке было представлено 18 котят. 6 котят купили, а остальных котят забрали домой. Сколько котят забрали домой?
7. Во дворе гуляют 13 цыплят и 4 утёнка. Сколько всего цыплят и утят гуляют во дворе?

Карточка 5

1. Чайный сервиз состоял из 12 чашек. 3 чашки разбились. Сколько чашек из сервиза остались целыми?
2. На ветке сидело 10 воробьев и столько же синиц. Сколько всего птиц сидело на ветке?
3. Дине 18 лет, а Гриша на 2 года младше Дины. Сколько лет Грише?
4. В булочной продали 18 пирожков и несколько бутербродов, которых было продано на 1 штуку больше. Сколько бутербродов продали в буфете?
5. В сквере растёт 17 деревьев. Из них 14 деревьев - это берёзы, остальные деревья - липы. Сколько лип растёт в сквере?
6. В саду росло 13 кустов смородины. Затем посадили ещё 2 куста крыжовника и 2 куста шиповника. Сколько кустов стало в саду?
7. В парке растёт 16 берёз и 12 осин. На сколько осин в парке меньше, чем берёз?

Карточка 6

1. В автобусе ехало 15 человек. 3 человека вышли на остановке. Сколько человек осталось в автобусе?
2. Миша пригласил на свой день рождения 8 девочек и 6 мальчиков. Сколько всего друзей пригласил Миша?
3. Маша живёт на 16 этаже, а Оля живёт на 3 этажа выше. На каком этаже живёт Оля?
4. В парке растёт 16 дубов и несколько елей, причём елей растёт на 1 дерево меньше, чем дубов. Сколько елей растёт в парке?
5. Бабушка испекла 18 пирожков. Из них 9 пирожков с капустой, остальные - с повидлом. Сколько пирожков с повидлом испекла бабушка?
6. Мама испекла 19 блинов. Надя съела 2 блина, Юля съела столько же. Сколько блинов осталось?
7. В парке растёт 16 дубов и 10

Карточки по математике для 1 класса на тему: "Текстовые задачи на сложение и вычитание чисел от 0 до 20"

Карточка 7

1. На рубашке было пришито 11 пуговиц. 2 пуговицы оторвались. Сколько пуговиц осталось на рубашке?
2. Петя съел 9 помидор и 3 огурца. Сколько всего овощей съел Петя?
3. Полина живёт на 15 этаже, а Валя живёт на 2 этаж ниже. На каком этаже живёт Валя?
4. Вася поймал в пруду 12 щук и несколько карасей, причём карасей на 3 штуки меньше, чем щук. Сколько карасей поймал Вася в пруду?
5. У Насти было 19 рублей. После того как она купила книгу, у неё осталось 6 рублей. Сколько стоит книга?
6. У Миши было 14 рублей. Он купил журнал за 4 рубля и блокнот за 1 рубль. Сколько денег осталось у Миши после покупок?
7. У Васи есть 8 рублей, у Саши есть 3 рубля. У кого больше денег и на какую сумму?

Карточка 8

1. В блокноте 18 страниц. Вася исписал 2 страницы. Сколько чистых страниц осталось в блокноте?
2. Букет состоит из 16 гвоздик и 4 ромашек. Сколько всего цветов в букете?
3. Длина книги составляет 18 сантиметров, а её ширина - на 1 сантиметр короче. Какова ширина книги?
4. В парке растёт 12 берёз и несколько сосен, причём сосен на 4 дерева больше, чем берёз. Сколько всего деревьев растёт в парке?
5. На аэродроме стояло 19 вертолётов. 3 вертолётá улетели. Сколько вертолётов осталось стоять на аэродроме?
6. В поле паслось 18 коров. 2 коровы ушли, затем 1 корова вернулась. Сколько коров пасётся в поле?
7. Во дворе живут 3 щенка и 7 котят. На сколько больше котят живёт во дворе, чем щенков.

Карточка 9

1. В саду растёт 16 груш и 12 яблонь. Каких деревьев в саду больше и на сколько?
2. Володе 15 лет. Сколько лет будет Володе через 4 года?
3. Вася живёт на 19 этаже, а Петя живёт на 5 этажей ниже, на каком этаже живёт Петя?
4. В саду растут 14 яблонь и несколько кустов малины, причём кустов малины на 3 штуки больше. Сколько кустов малины растёт в саду?
5. В вагоне едут 13 офицеров: четверо из них - майоры, а остальные - капитаны. Сколько капитанов едет в вагоне?
6. В вагоне ехало 17 пассажиров. На станции вошёл 1 пассажир и вышли 5 пассажиров. Сколько пассажиров осталось в вагоне?
7. Витя выучил 10 стихотворений. 3 стихотворения он забыл. Сколько стихотворений помнит Витя?